

実教出版 **日本史**

# 指導資料のご案内


# 31

平成 年度用

新日本史 A

高校日本史 A/B


日本史 B




目A 313



目A 309



目B 312



目B 311

実教出版



デジタルコンテンツのサンプルを、スマートフォン等でご覧いただけます。詳しくは裏表紙をご覧ください。

定価は2018年4月1日現在のものですが、一部の商品に変更する場合がありますので、ご了承ください。

# 日本史指導資料のご案内 ラインアップ

表中の p. は、本冊子の掲載ページです。ぜひご覧下さい。


		313 新日本史 A 新訂版	309 高校日本史 A 新訂版	311 高校日本史 B 新訂版	312 日本史 B 新訂版
紙媒体	教授用指導書	<input type="checkbox"/> p. 6 <sup>※1</sup>	<input type="checkbox"/>	<input type="checkbox"/>	<input type="checkbox"/> p.28
	授業ノート		<input type="checkbox"/>	<input type="checkbox"/>	<input type="checkbox"/> p.29
	授業プリント	<input type="checkbox"/> p.12			
	準拠演習ノート		<input type="checkbox"/>	<input type="checkbox"/>	
※2 日本史共通 DVD・ROM	授業展開スライド (PowerPoint)				<input type="checkbox"/> p.34
	スライド対応プリント (Word)				<input type="checkbox"/> p.35
	本文・図版 (PDF / Word)	<input type="checkbox"/>	<input type="checkbox"/>	<input type="checkbox"/>	<input type="checkbox"/>
	板書例 (PDF / Word)	<input type="checkbox"/>	<input type="checkbox"/>	<input type="checkbox"/>	<input type="checkbox"/> (要点の整理)
	授業プリント (PDF / Word)	<input type="checkbox"/> p.12			
	ワークシート (Word)		<input type="checkbox"/>	<input type="checkbox"/>	
	教科書準拠白地図ワーク (PDF / Word)	<input type="checkbox"/> p.18			
	歴史地図問題 (Word)		<input type="checkbox"/> p.20	<input type="checkbox"/> p.20	
	テスト問題 (Word)	<input type="checkbox"/> p.8	<input type="checkbox"/> (定期試験) p.26	<input type="checkbox"/> (定期試験) p.26	<input type="checkbox"/> p.30
	一問一答 (Word)	<input type="checkbox"/> p.10	<input type="checkbox"/> p.22	<input type="checkbox"/> p.22	<input type="checkbox"/> p.32
	章末問題 (Word)		<input type="checkbox"/> p.24	<input type="checkbox"/> p.24	
	準拠演習ノート (Word)	<input type="checkbox"/>	<input type="checkbox"/>	<input type="checkbox"/>	<input type="checkbox"/>
セット価格	本体 18,000 円+税	本体 18,000 円+税	本体 18,000 円+税	本体 18,000 円+税	

## 指導書セット別売もございます

※1 「新日本史 A 新訂版 教授用総合指導書」 定価 (本体 4,000 円+税)

※2 「日本史共通 DVD - ROM」 定価 (本体 14,000 円+税)


## 教授用総合指導書



### 新日本史 A

教科書の縮刷りに、用語解説や発問例など、授業のヒントを網羅した実践的な指導書 → p.6

## 教授用指導書



### 高校日本史 A 高校日本史 B 日本史 B

詳細な事項・写真解説などスタンダードな指導書 → p.28

## 授業ノート



### 高校日本史 A 高校日本史 B 日本史 B

板書事項や展開例など、具体的な授業づくりに → p.29

## 授業プリント



### 新日本史 A

「地域からみた日本」の学習をサポートする授業プリント → p.12 ~

## 日本史共通 DVD-ROM



### 授業展開コンテンツ

日本史 B 授業展開スライド (PowerPoint) → p.34

電子黒板やスクリーンを利用した授業に！本文の要点整理と図版をスライドにしました。通常の黒板でも活用できる「白黒版」も収録。チョークで補足を書き込んで活用いただけます。板書が不要 ▶ 説明に時間をかけられません  
図版の拡大表示が可能 ▶ 見せたい部分をズームアップ

日本史 B スライド対応プリント (Word) → p.35

授業展開スライドにぴったり合った確認用プリント。スライドの赤字部分を穴埋めするプリントで重要用語の理解が図れます。解答プリントも収録。

### 教材作成コンテンツ

本文・図版 (PDF / Word) / 板書例 (PDF/Word) / 授業プリント (PDF/Word) / ワークシート (Word) / 教科書準拠白地図ワーク (PDF/Word) / 歴史地図問題 (Word) / テスト問題 (Word) / 一問一答 (Word) / 章末問題 (Word) / 準拠演習ノート (Word)

〈出力見本 (プリントアウト例) を教科書ごとにこの冊子でご案内しています〉

# 指導資料 DVD-ROM



授業に役立つデジタルコンテンツを多数収録

## 日本史共通 DVD-ROM 教科書選択画面

## 高校日本史 A 新訂版 コンテンツ選択画面

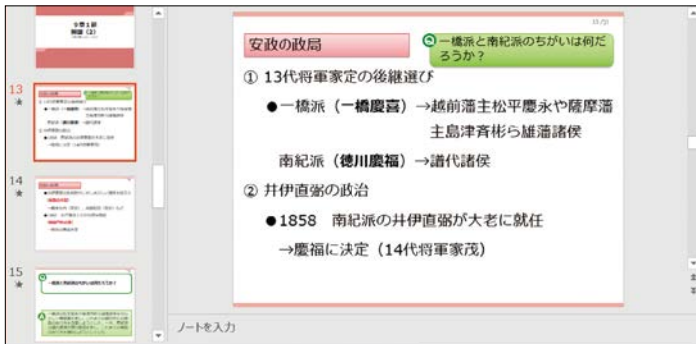
節ごとに直感的な操作で様々なデータを取り出せます

サポートページ：指導資料 DVD-ROM をご購入いただいた学校様へのサポートとして弊社 Web サイトから更新データなどをダウンロードできます


# デジタルコンテンツ収録内容のご案内

## 授業展開スライド（日本史Bのみ）

1 単元分 10～20 枚程度のスライドを収録




## スライドにぴったり合った穴埋めプリント



## 教科書本文・図版データ




## 加工できる Word 形式で収録



## ポイントをまとめた板書例




## 自由に編集できるテスト問題



## 一問一答



## 準拠演習ノートのデータも収録



学習到達目標を示しました

授業のねらい

日清戦争後、列強が清国に侵出する状況を具体的に把握し、そのようななかで清国や朝鮮がそれぞれにおこなった改革と、日本では藩閥に対して政党が台頭してきたことを理解させる。

考えてみよう

解答 切りわけているのは、左からイギリス（ヴィクトリア女王）、ドイツ（ヴィルヘルム2世）、ロシア（ニコライ2世）、フランス（当時は第三共和政）、日本。切りわけられているのは、中国。後ろで手をあげているのは李鴻章か。

授業の展開例

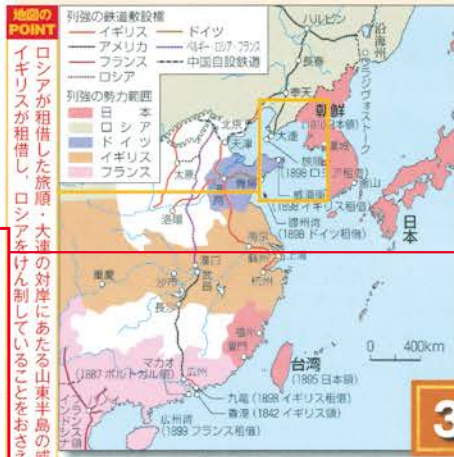
- ①三国干渉により日露関係が緊張に向かうことを理解する(Q1を活用)。列強の中国分割について、<考えてみよう>や地図①を活用し、世界史上でのロシアとイギリスの対立にも留意しながら把握させる(Q2を活用)。②列強の侵出に対する清国の改革(Q3を活用)と、朝鮮の状況を把握させる(「人物スポットライト」・Q4を活用)。③日清戦争後の日本の政治状況を、伊藤博文と山県有朋を軸に把握し(Q5を活用)、それが藩閥内閣と政党内閣が交替する桂園時代に続くことを理解させる。

発問例

- Q1 ロシアはなぜ、遼東半島の返還を求めて三国干渉をおこなったのだろうか。A1 港湾(旅順や大連)の獲得と、そこへの鉄道の敷設が目的。Q2 地図①の列強のなかから、ロシアと対立していた国を選ぼう。また、そのことはなぜわかるか。A2 イギリス。ロシアが租借した旅順や大連の対岸にあたる、威海衛を租借しているから。Q3 清朝の改革が失敗したのはなぜだろうか。A3 西太后ら保守派のクーデターがおこったから。

西太后

咸豊帝の妃で、同治帝の母。光緒帝は甥にあたり、当初は摂政としてこれを補佐したが親政後しだいに溝が生じた。光緒帝が康有为らを登用して戊戌の変法を断行すると、保守派とともにこれを止めさせ、光緒帝を幽閉した。



考えてみよう

フランス語でCHINEと書かれたものを切りわけている人たちは、だれでしょうか。

3 東アジアの変革

東アジアと日本は、どのようにかわろうとしたのでしょうか。

授業展開例にも〈考えてみよう〉や〈発問例〉を取り入れています

人物スポットライト

関妃 1851~95 改革を後押し



朝鮮王朝の国王高宗の王妃で、明成皇后とよばれます。出身が閔氏だったので、このようにもよばれます。政治力もあったため、王妃の力を背景に、閔氏一族が高宗の密廷を支配しました。日本・清国・ロシアという大国の圧力のもとで、高宗と王妃は政治の舵取りに悩みます。駐朝公使の三浦梧楼は、「女性としては実に珍しい才のある素晴らしい人であった」とたたえる回想を残しています。

46 第2章 二つの戦争と大日本帝国

三国干渉と列強の中国分割

下関条約の調印直後、日本の中国東北部への侵出をばばもうとするロシアは、ドイツ・フランスと、遼東半島を清国に返還するよう日本に要求しました(三軍事的な干渉をさせるため、日本は賠償金3000万兩(約とひきかえに返還に応じましたが、その後、ロシアとの戦争に向けた軍備拡張を急速にすすめました。

一方、日清戦争後、日本への賠償金支払いに苦しむ清国は、列強諸国から資金を借り受け、それと引きかえに列強は清国からさまざまな利権を引き出しました。清国には軍事的圧力も加えられ、1898(明治31)年には、ドイツやロシアなどが、清国各地で租借地や鉄道の敷設権などを獲得しました。さらに1899年、清国での利権獲得競争に出遅れていたアメリカが、清国の門戸開放を提唱すると、列強による清国をめぐる争いは、いっそうはげしくなりました。

王朝の自己改革

こうした列強の侵出に対し、清国では改革派を中心にすみやかな政治改革を求める機運が高まり、1898年には光緒帝が、議会政治を基礎とする立憲君主制の樹立をめざす改革を実施しました(戊戌変法)。しかし、西太后ら保守派がクーデターをおこしたため、改革は失敗におわりました。

日清戦争後の朝鮮では、国王高宗を中心に、日本の介入を拒否し、ロシアに接近する動きがみられました。これに対して、駐朝公使の

1893年、世界で最初の女性参政権がニュージーランドで成立しました。その後、欧米の多くの国が、第二次世界大戦前に女性参政権を実現しています。日本は1945年です。


板書例

Boarding example containing key terms and events: 三国干渉と列強の中国分割, 三国干渉 = ロシア・ドイツ・フランス, 遼東半島の清国への返還を要求(1895), 中国分割... ドイツ, ロシア, イギリス などによる(1898~), 王朝の自己改革, 清国 改革派の要求 -> 光緒帝, 戊戌変法 = 議会政治・立憲制の確立.

板書例では重要事項は太字、発問例の解答は赤字で示しました

授業の導入やアクセントとして利用できる、こぼれ話や豆知識

46 ミニトピック 1860年代以降のアメリカは、南北分裂の危機(南北戦争)をのりこえた後も、国内の工業化や鉄道網の整備など国力充実につとめた。19世紀末にはキューバやプエルトリコ進出、ハワイ併合、フィリピン占領といった帝国主義政策に転じたが、中国侵出には遅れをとった。



教科書と同じ表紙デザイン。教室でご活用いただけます

2個師団増設問題をめぐる陸軍大臣辞任により総辞職した。

大韓帝国と高宗の改革

高宗は、清国の冊封体制から離脱したことを示すために独自の年号「光武」を定め、「皇帝」に即位して国号を「大韓」とした。国家基本法「大韓帝国制」を制定し、土地調査など近代化事業をおこなった(→ミニトピック)。しかし、それらは財政難のなかでおこなわれたために民衆の負担は増し、さまざまな抗争がおこった。

発問例

- Q④ 駐朝公使三浦梧楼が閔妃を殺害したのはなぜだろうか。
- A④ 朝鮮侵出をくわだてる日本をきらってロシアに接近した首謀者であると考えたから。
- Q⑤ 藩閥出身の伊藤博文と山県有朋が政党政治に対してとった態度の違いをまとめよう。
- A⑤ 伊藤博文は政党をとりこみ、山県有朋はこれを嫌った。

隈板内閣の崩壊

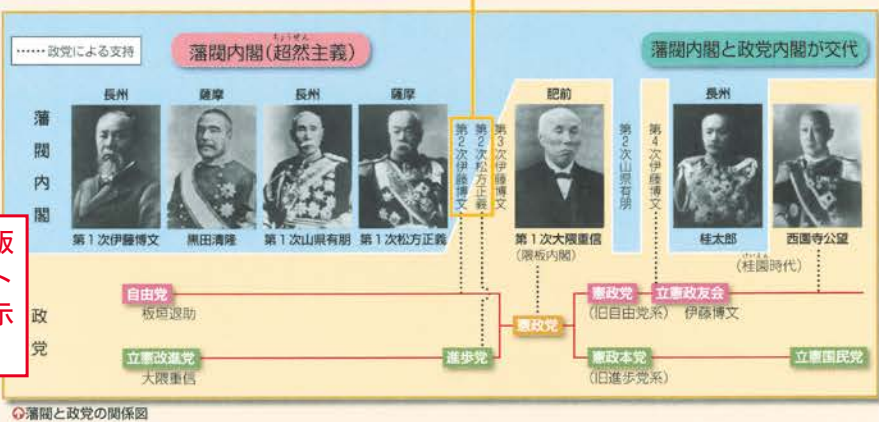
尾崎行雄文相のいわゆる「共和演説事件」(金権政治を批判する演説において、日本が共和制になったと仮定して説明したことが「問題化」により辞任し、後任をめぐり旧自由党勢力と旧進歩党勢力の間が紛糾したのが原因である。

元勳から元老へ

長州閥の伊藤博文と薩摩閥の黒田清隆が詔勅によって「元勳」の待遇を受けたのがはじまり。やがて伊藤・山県有朋・松方正義らが第一線を退くと「元老」とよばれた。井上馨ら首相を経験していない者も含まれ、西園寺公望(公家)は薩摩・長州以外の唯一の元老である。大正期以後、次期首相を選挙する役割をにやが、明治憲法に元老に関する規定はなかった。

図版のPOINT

日清戦争後、第2次伊藤内閣は自由党に接近(板垣退助が入閣)し、第2次松方内閣は進歩党に接近(大隈重信が入閣)する。藩閥と政党は近づいていく。



本文や図版のポイントを示しました

三浦梧楼らは、王妃閔妃を親露派の代表とみなし、1895年10月に朝鮮王宮に侵入して虐殺しました(閔妃殺害事件)。以後、朝鮮国内での反日感情はますます高まり、義兵闘争が全国にひろがっていきました。1897年、朝鮮は、清国や日本などと対等な国であることを示すため国号を大韓帝国と改め、高宗は皇帝に即位しました。高宗のもとで、土地制度や貨幣金融制度など、さまざまな改革が試みられました。

POINT

陸海軍大臣をのそくすすべての閣僚を憲政黨員が占めた。

藩閥勢力と政党政治

日本でも、政治のあり方がかわっていきました。1898年、藩閥政府に対抗するために自由党と進歩党が合同して憲政党を結成し、さらにこの年に、憲政党の大隈重信を首相、板垣退助を内務大臣とする日本初の政党内閣が誕生しました(隈板内閣)。

しかし隈板内閣は4か月で崩壊し、かわって山県有朋が藩閥勢力による内閣を組織します。山県内閣は、労働運動・農民運動の取り締まりのために治安警察法を制定し、さらに軍部大臣現役武官制の導入によって、軍部の独立性を高める施策も実施しました。

一方、政党政治の必要性を感じた伊藤博文は、1900年、官僚や憲政党などを結集した立憲政友会を組織しました。立憲政友会は、帝国議会の過半数の議席を占める大政党となり、藩閥勢力出身の元勳と政党が一体となった政治体制が成立しました。

①事件の様子は欧米のメディアでも報道され、日本は国際的非難を受けました。そのため、政府は関係者の軍人8名と民間人48名を裁判にかけましたが、証拠不十分として全員を無罪・免訴としました。

POINT

軍備拡張を中心とした戦後経営をおしすすめるため、第3次伊藤博文内閣は大増税を計画した。

本文や図版から読み取れる内容で作成した発問例

になる資格が、現役の大將か中将に限定されました。

③憲政党は、隈板内閣の崩壊前後から内部分裂をおこし、板垣退助ら旧自由党系の黨員が憲政党を、大隈重信ら旧進歩党系は憲政本党を結成しました。立憲政友会の設立にさいし、憲政党は解散して合流しました。

④明治政府の樹立に寄与し、そのち政府内で功績を挙げた人々です。議院開設以降も、一部は元老として、国家の重要な事柄について、政府や天皇に意見を述べ、その決定にかかわるなど強い影響力をもちました。

事項や重要人物についての解説

板書例

- 朝鮮 ロシアに接近→閔妃殺害事件(駐朝公使三浦梧楼ら)→反日感情高まり、義兵闘争 大韓帝国に改称(1897)→皇帝となった高宗による改革
- 【藩閥勢力と政党政治】
- 日本初の政党内閣 憲政党(自由党と進歩党が合同)による「隈板内閣」
  - ↓ 4か月で崩壊
  - 首相に大隈重信、内相に板垣退助
- 藩閥内閣と政党内閣 ふたたび、藩閥内閣 山県有朋による←A5
  - ↓ 労働運動・農民運動の取り締まり…治安警察法(1900)
  - ↓ 軍部大臣現役武官制(1900)…陸相・海相は軍部から
  - 立憲政友会の結成(1900)伊藤博文による。憲政党は解散し、合流
  - ↓
  - 桂園時代 藩閥内閣(桂太郎)と政党内閣(西園寺公望)が交互に

ミニトピック

1899年、漢城では王室とアメリカの技術者が共同出資して市電が敷設された。これは京都について東アジアでは2番目のことで、当初は京都から出向した日本人が運転した。電灯・電話や映画も登場し、漢城には文明開化的な状況が到来した。

## 第2章 二つの戦争と大日本帝国

## 第1節3 東アジアの変革

1 次の文章について、下の設問に答えましょう。

下関条約の調印後、a 欧州の3か国が ( A ) を清国に返還するよう日本に要求しました。日本はこの三国干渉に応じましたが、ロシアとの戦争に向けた軍備拡張をすすめました。列強諸国は一方で、日本への賠償金の支払いに苦しむ清国からb 租借地や鉄道の敷設権を獲得しました。さらに1899年、( B ) も清国の門戸開放を提唱するなど、清国をめぐる列強間の争いは激化しました。こうした列強の動きに対し、c 清国では1898年に政治改革がおこなわれました。朝鮮でも、日清戦争後にd 日本の介入を拒否する動きがみられたり、国王高宗のもとで改革が試みられたりしました。

問1 空欄 ( A ) にあてはまる地名を漢字で答えましょう。 ( )

問2 空欄 ( B ) にあてはまる国名を答えましょう。 ( )

問3 下線部 a の国名の組み合わせとして正しいものを、次の①～④から一つ選びましょう。

- ① ロシア、イギリス、フランス      ② ロシア、ドイツ、イギリス  
③ ロシア、ドイツ、フランス      ④ ドイツ、イギリス、フランス ( )

問4 下線部 b に関連して、右の地図中の X の範囲に租借地や鉄道敷設権を獲得した国はどこですか。次の①～④から一つ選びましょう。

- ① ロシア      ② イギリス  
③ フランス      ④ ドイツ ( )

問5 下線部 c の改革について述べた a・b の文の正誤の組み合わせとして正しいものを、次の①～④から一つ選びましょう。

- a 議会政治を基礎とする立憲君主制の樹立をめざした改革が実施されました。  
b 光緒帝が改革派を弾圧したため、改革は失敗に終わりました。

- ① a - 正      b - 正      ② a - 正      b - 誤  
③ a - 誤      b - 正      ④ a - 誤      b - 誤 ( )

問6 下線部 d に関連した朝鮮での出来事について述べた文として誤っているものを、次の①～④から一つ選びましょう。

- ① 国王や王妃を中心に清国に接近する動きをみせました。  
② 王妃の閔妃が日本によって殺害されました。  
③ 反日感情が高まり、義兵闘争が全国に拡大しました。  
④ 清国・日本と対等であることを示すため国号を大韓帝国としました。 ( )





2 次の文章について、下の設問に答えましょう。

日本では、1898年、藩閥政府に対抗するために自由党と進歩党とが合同した **X** が結成され、同年、この新党を中心とした a 日本初の政党内閣 が誕生しました。しかし、この内閣はわずか4か月で崩壊し、かわって b ( **A** ) が藩閥勢力を中心とした内閣を組織しました。一方、藩閥勢力出身の元勳でありながら政党政治の必要性を感じた ( **B** ) は、1900年に官僚や旧自由党系などを結集した **Y** を組織した。

問1 空欄 **X** と **Y** にあてはまる政党名の組み合わせとして正しいものを、次の①～④から一つ選びましょう。

- |            |           |            |           |
|------------|-----------|------------|-----------|
| ① X = 憲政党  | Y = 立憲改進黨 | ② X = 憲政党  | Y = 立憲政友会 |
| ③ X = 憲政本党 | Y = 立憲改進黨 | ④ X = 憲政本党 | Y = 立憲政友会 |
- ( )

問2 下線部 a について、問1の政党の中心人物で、この内閣の首相および内務大臣となった人物の名をそれぞれ答えましょう。

首相 ( )  
内務大臣 ( )

問3 空欄 ( **A** ) にあてはまる人物名を答えましょう。 ( )

問4 下線部 b の内閣の政策について述べた a・b の文の正誤の組み合わせとして正しいものを、次の①～④から一つ選びましょう。

- a 労働運動や農民運動の取り締まりのため、治安維持法を制定しました。  
b 軍部大臣現役武官制を導入して、政党政治に対する軍部の独立性を高めました。

- |         |       |         |       |
|---------|-------|---------|-------|
| ① a - 正 | b - 正 | ② a - 正 | b - 誤 |
| ③ a - 誤 | b - 正 | ④ a - 誤 | b - 誤 |
- ( )

問5 空欄 ( **B** ) にあてはまる人物名を答えましょう。 ( )

一問一答

年 組 番名前

**2 章 1 節 3 東アジアの変革**（教科書 p. 46～47）

(1) 下関条約の調印直後、ロシアは他の 2 国とともに、遼東半島を清国に返還するよう日本に要求しました。他の 2 国とはどこですか。

(2) (1) の出来事を何とといいますか。

(3) 清国は列強諸国から圧力を受け、土地を貸し与えることもしました。実質的には列強が長期間支配した、このような土地を何とといいますか。

(4) 清国での利権獲得競争に出遅れていたため、1899 年に清国の門戸開放を提唱して参入をねらった国はどこですか。

(5) 清国では、1898 年に光緒帝のもとで議会政治と立憲君主制の樹立をめざす改革がおこなわれました。この改革を何とといいますか。

(6) (5) の改革は、保守派のクーデターにより失敗に終わりました。保守派の中心人物は誰ですか。漢字 3 字で答えよう。

(7) 日清戦争後にロシアに接近をはかり、1895 年に駐朝公使らの王宮侵入を受けて虐殺された、朝鮮国王高宗の皇后はだれですか。

(8) 1897 年、朝鮮は、清国や日本などと対等な国であることを示すため国号を改めました。その国号を漢字 4 字で答えよう。

(9) 1898 年、藩閥政府に対抗するために自由党と進歩党が合同してできた政党は何ですか

(10) 同年に (9) を中心とした日本初の政党内閣が誕生しますが、その首相となった人物はだれですか。

(11) 隈板内閣にかわって藩閥勢力を中心とした山県有朋内閣が、労働運動や農民運動の取り締まりのために制定した法律は何ですか。

(12) 山県内閣は、陸軍・海軍大臣になる資格を現役の大將か中將に限定しました。この制度を何とといいますか。

(13) 1900 年、政党政治の必要性を感じた伊藤博文が、官僚や (9) などを結集して組織した政党は何ですか。

一問一答

年 組 番 名 前

**3章1節1 大正デモクラシーの広がり** (教科書 p.62~63)

- (1) 1905年、日露戦争講和反対集会から暴動に発展した事件を何といいますか。
- (2) 日露戦争後、政権を担当した藩閥を代表する政治家はだれですか。
- (3) (2)と交互に政権を担当した立憲政友会の総裁はだれですか。
- (4) 第1次護憲運動の先頭に立った立憲政友会の政治家はだれですか。
- (5) (4)とともに第1次護憲運動の先頭に立った立憲国民党の政治家はだれですか。
- (6) 第1次護憲運動により(2)の内閣が倒れた事件を何といいますか。漢字4字で答えよう。
- (7) (6)の後、山本権兵衛内閣が軍部の力をおさえるために改めた制度は何ですか。漢字9字で答えよう。
- (8) 山本権兵衛内閣が倒れる原因となった海軍の汚職事件を何といいますか。
- (9) (8)の後、内閣総理大臣となった国民的な人気のあった政治家はだれですか。
- (10) 民本主義を提唱した、大正デモクラシーの思想を代表する学者はだれですか。
- (11) 天皇機関説を唱えた憲法学者はだれですか。
- (12) 貧困問題を真正面からとりあげた『貧乏物語』を連載し、評判をよんだ経済学者はだれですか。
- (13) 「小日本主義」を唱えた『東洋経済新報』の記者はだれですか。
- (14) 平塚らいてうらによって1911年に発刊された雑誌は何ですか。

## 解説編

## 地域からみた日本

①北海道では長く道議会がひらかれませんでした。また、衆議院議員選挙法や徴兵令なども遅れて実施されました。大日本帝国憲法以後に領土となった植民地に対し、「国内植民地」（内国植民地）とよびます。

②札幌農学校はすぐれた教育で著名でした。英語で授業がおこなわれ、キリスト教が生徒に大きな影響を与えました。代表的な教師にクラークがおり、「Boys, be ambitious」（少年よ、大志を抱け）で知られています。

## Topic

## 松前藩とアイヌ

近世の蝦夷地を支配したのは松前藩でした。松前藩は年貢ではなくアイヌとの交易権を収入の基礎にしていたので、多くの利益を得ようと、アイヌから海産物などを安く買いたたいていました。近世後期には、本土の商人の交易を請け負わせる制度をつくり、アイヌ支配はより苛酷なものとなりました。1789年には、東蝦夷地クナシリ・メナシでアイヌの抵抗運動がおこっています。

## 1 北海道 アイヌの土地と開拓の土地

近世後期の  
蝦夷地

1792年、ロシアのラクスマンが通商を求めて根室<sup>ねむろ</sup>に来航します。清・朝鮮・琉球・オランダ以外の通商を認めていなかった幕府は、通商を拒絶します。徳川幕府は、シベリア開発をすすめるロシアへの対応をせまられました。蝦夷地<sup>えぞち</sup>のみならず、千島列島<sup>ちしま</sup>やサハリンに暮らしていたアイヌの人々は、和人が経営する漁場などで働くようになっていました。幕府や松前藩<sup>まつまえはん</sup>は、次第にアイヌの人々への支配を強めていきました。1854年、日露和親条約<sup>にちろわしん</sup>の締結<sup>ていけつ</sup>、箱館開港<sup>はこだて</sup>の後、幕府は蝦夷地を直轄地とし、同化政策<sup>どうか</sup>をはじめました。

明治維新と  
アイヌ

1869年、五稜郭<sup>ごりやうかく</sup>の旧幕府軍が降伏し、戊辰戦争<sup>ごうしん</sup>が終結すると、明治新政府は松前藩が支配していた和内地と、アイヌが暮らしていた蝦夷地・択捉<sup>えとろふ</sup>など島々をあわせて「北海道」と改称しました。開拓使<sup>かいたくし</sup>がおかれ、北海道支配の中心となりました。

アイヌに対しては、戸籍法<sup>こせき</sup>を適用して「平民<sup>へいみん</sup>」に登録すると同時に、アイヌ独自の文化である入墨<sup>いれずみ</sup>や耳輪<sup>みみわ</sup>を禁止しました。また、東京にある開拓使のもとに教育所を設け、アイヌを東京によびよせて教育しようとした。1875年の樺太・千島交換条約<sup>からふとちしま</sup>などでロシアとの国境画定<sup>かくてい</sup>がすすむとともに、千島やサハリンに暮らしていたアイヌの人々は強制移住させられました。1878年、開拓使はアイヌを「旧土人<sup>きゅうどじん</sup>」と呼称することに決定したのです。

## 開拓と屯田兵

開拓使は碁盤目状に整備された都市・札幌<sup>さっぽろ</sup>に移り、北海道開拓政策をすすめていきました。1876年には高等教育機関として札幌農学校（現在の北海道大学）が開校し、外国人教師による教育がおこなわれました。初期開拓の中心は各地域で暮らしに困窮<sup>こんきゆう</sup>した土族<sup>しぞく</sup>や、屯田兵<sup>とんでんへい</sup>とよばれる人々でした。

1875年、札幌近郊の琴似<sup>きんごう</sup>に最初の屯田兵村<sup>こと</sup>がうまれます。また集治監<sup>しゅうじかん</sup>（刑務所<sup>けいむしょ</sup>）が設置され、囚人<sup>しゅうじん</sup>たちも道路建設などの苛酷<sup>かこく</sup>な労働を強いられました。北海道内の土木工事現場における劣悪<sup>れつあく</sup>な環境のもとでの労働を、「タコ（部屋）労働」といいます。なかには鎖<sup>くさり</sup>をつけたまま葬られた人もおり、1970年代以降、彼らの歴史を掘りおこして供養<sup>くよう</sup>する、民衆史運動<sup>みんしゅしうんどう</sup>がさかんになりました。

**北海道旧土人保護法**

1882年に開拓使は廃止され、北海道庁がおかれ  
ました。1899年、北海道旧土人保護法が制定され、  
アイヌの人々への農業の強制、土地利用への制限などが決められま  
した。アイヌ学校（旧土人学校）も設置されましたが、一般の学校  
とは異なり、地理・歴史などはおこなわれず、「忠君愛国」の修身  
が重視され、アイヌ語やアイヌ風俗は禁止されて日本語による教育  
がおこなわれました。アイヌの文化を否定する政策が実施されてい  
ったのです。

**知里幸恵の  
試み**

こうしたなかでアイヌの文化をみつめなおす動き  
も出てきました。知里幸恵は、旭川のアイヌコタ  
ンで育ち、祖母らが語るユーカラに親しみ、ノートに記録していき  
ます。旭川周辺には多くのアイヌの土地がありましたが、軍隊の駐  
屯によってうばわれていました。この地域のアイヌは長くみずから  
の土地の返還運動を続けていきます。幸恵の仕事は、アイヌの言語  
を研究する金田一京助らの支援もあって、1923年、『アイヌ神謡  
集』にまとめられました。1930年には北海道アイヌ協会が設立、  
翌年には全道アイヌ青年大会が開催され、アイヌの人々の自己主張  
がはじまります。しかし、戦時中は「同じ日本人」としての側面が  
強調され、戦争に動員されていくことになりました。

**戦後の北海道  
とアイヌ**

戦後の北海道は、釧路湿原に代表されるように新  
しい農業開拓地として注目を集めました。1960  
年代には知床などの観光地が人気となり、アイヌの伝統的な祭りな  
ども観光資源とみなされるようになりました。しかし、アイヌに対  
する差別は続き、1961年には北海道アイヌ協会が会員の心理的抵  
抗をやわらげるため、北海道ウタリ協会に改称しています。

アイヌの人々は、共有地の返還運動や先住民としての権利獲得の  
運動をおこなっていきます。1994年には、アイヌ初の国会議員が  
誕生しました。アイヌが古くから暮らしていた二風谷でのダム建設  
に対しては建設差し止め訴訟がおこなわれましたが、1997年の判  
決でダム工事のための土地収用は違法、アイヌを先住民とする判  
決が出されました。北海道旧土人保護法も廃止され、アイヌ文化振  
興法が制定されました。

2008年には第一回先住民サミットが札幌市などでひらかれ、国  
会もアイヌを先住民と認める決議をおこなっています。

③アイヌの文化はイオマンテ  
とよばれる「クマ送り儀礼」  
を中心にして形づくられてい  
ます。クマに対する信仰、  
「クマ送り儀礼」は、ヨーロ  
ッパ北部やカナダなど広く北  
極圏に暮らす人々にひろがっ  
ています。

④違星北斗（1901～29）  
はアイヌの社会運動家であり  
歌人でもありました。道内の  
アイヌコタンをまわり、アイ  
ヌの地位向上のための団結を  
訴えました。

**人物スポットライト**

金田一京助 ● 1882～1971  
知里真志保 ● 1909～61

京助は岩手県出身の言語  
学者で、アイヌ語学研究の  
第一人者です。アイヌ「ユ  
ーカラ」を筆録・研究し、  
知里幸恵『アイヌ神謡集』  
刊行に力を尽くしました。  
真志保は幸恵の弟。京助の  
もとで学び、アイヌ語研究  
の基礎をきずきました。

## 問題編

## 1 北海道 アイヌの土地と開拓の土地…問題編

- ① \_\_\_\_\_ **近世後期の蝦夷地** 1792年, [ ① ] のラクスマンが通商を求めて根室ねむろに來航します。清・朝鮮・琉球・オランダ以外との通商を認めていなかった幕府は, 通商を拒絶きよぜつします。徳川幕府は, シベリア開発をすすめる [①] への対応をせまられました。蝦夷地えぞちのみならず, 千島列島ちしまやサハリンに暮らしていたアイヌの人々は, 和人わじんが経営する漁場などで働くようになっていました。幕府や [ ② ] は, 次第にアイヌの人々への支配を強めていきました。1854年, [ ③ ] の締結ていけつ, 箱館開港ほこだての後, 幕府は蝦夷地を直轄地ちやくかつちとし, [ ④ ] をはじめました。
- ② \_\_\_\_\_
- ③ \_\_\_\_\_
- ④ \_\_\_\_\_ **明治維新とアイヌ** 1869年, [ ⑤ ] の旧幕府軍が降伏こうふくし, 戊辰戦ぼしんせん争が終結しゆうけつすると, 明治新政府は [②] が支配していた和人地と, アイヌが暮らしていた蝦夷地・択捉えとろふなど島々をあわせて「北海道」と改称かいせうしました。[ ⑥ ] がおかれ, 北海道支配の中心となりました。
- ⑤ \_\_\_\_\_
- ⑥ \_\_\_\_\_ アイヌに対しては, 戸籍法こせきを適用して「平民へいみん」に登録すると同時に, アイヌ独自の文化である入墨いれずみや耳輪みみわを禁止きんししました。また, 東京にある [⑥] のもとに教育所を設け, アイヌを東京によびよせて教育しようとした。1875年の [ ⑦ ] などで [①] との国境画定かくていがすすむとともに, 千島やサハリンに暮らしていたアイヌの人々は強制移住きやうじさせられました。1878年, [⑥] はアイヌを「旧土人きゅうどじん」と呼称きゆうすることに決定したのです。
- ⑦ \_\_\_\_\_
- ⑧ \_\_\_\_\_ **開拓と屯田兵** [⑥] は碁盤目状ごばんめに整備された都市・札幌さっぽろに移り, 北海道開拓政策をすすめていきました。1876年には高等教育機関として [ ⑧ ] (現在の北海道大学) が開校し, 外国人教師による教育がおこなわれました。初期開拓の中心は各地域で暮らしに困窮こんきゆうした土族しぞくや, [ ⑨ ] とよばれる人々でした。
- ⑨ \_\_\_\_\_ 1875年, 札幌近郊の琴似ことに最初の [⑨] 村がうまれます。また集治監しゅうじかん (刑務所けいむしょ) が設置しやうじされ, 囚人しゅうじんたちも道路建設などの苛酷かこくな労働を強いられました。北海道内の土木工事現場における劣悪れつあくな環境のもとでの労働を, 「タコ (部屋) 労働」といいます。なかには鎖くさりをつけたまま葬ほうむられた人もおり, 1970年代以降, 彼らの歴史を掘りおこして供養くようする, [ ⑩ ] がさかんになりました。
- ⑩ \_\_\_\_\_

**北海道旧土人保護法**

1882年に〔⑥〕は廃止され、北海道庁がおかれ  
ました。1899年、〔 ⑪ 〕が制定され、アイヌ  
の人々への農業の強制、土地利用への制限などが決められました。

〔 ⑫ 〕(旧土人学校)も設置されましたが、一般の学校とは異  
なり、地理・歴史などはおこなわれず、「忠君愛国」の修身が重視  
され、アイヌ語やアイヌ風俗は禁止されて日本語による教育がおこ  
なわれました。アイヌの文化を否定する政策が実施されていったの  
です。

**知里幸恵の  
試み**

こうしたなかでアイヌの文化をみつめなおす動き  
も出てきました。〔 ⑬ 〕は、旭川のアイヌコ  
タンで育ち、祖母らが語るユーカラに親しみ、ノートに記録してい  
きます。旭川周辺には多くのアイヌの土地がありましたが、軍隊の  
駐屯によってうばわれていました。この地域のアイヌは長くみずか  
らの土地の返還運動を続けていきます。〔⑬〕の仕事は、アイヌの  
言語を研究する〔 ⑭ 〕らの支援もあって、1923年、  
『〔 ⑮ 〕』にまとめられました。1930年には〔 ⑯ 〕が設立、  
翌年には全道アイヌ青年大会が開催され、アイヌの人々の自己主張  
がはじまります。しかし、戦時中は「同じ日本人」としての側面が  
強調され、戦争に動員されていくことになりました。

**戦後の北海道  
とアイヌ**

戦後の北海道は、釧路湿原に代表されるように新  
しい農業開拓地として注目を集めました。1960  
年代には知床などの観光地が人気となり、アイヌの伝統的な祭りな  
ども観光資源とみなされるようになりました。しかし、アイヌに対  
する差別は続き、1961年には〔⑰〕が会員の心理的抵抗をやわら  
げるため、〔 ⑱ 〕に改称しています。

アイヌの人々は、共有地の返還運動や先住民としての権利獲得の  
運動をおこなっていきます。1994年には、アイヌ初の国会議員が  
誕生しました。アイヌが古くから暮らしていた〔 ⑲ 〕でのダム  
建設に対しては建設差し止め訴訟がおこなわれましたが、1997年  
の判決でダム工事のための土地収用は違法、アイヌを先住民族とす  
る判決が出されました。〔⑳〕も廃止され、〔 ㉑ 〕が制定されま  
した。

2008年には第一回〔 ㉒ 〕が札幌市などでひらかれ、国会も  
アイヌを先住民族と認める決議をおこなっています。

⑪ \_\_\_\_\_

⑫ \_\_\_\_\_

⑬ \_\_\_\_\_

⑭ \_\_\_\_\_

⑮ \_\_\_\_\_

⑯ \_\_\_\_\_

⑰ \_\_\_\_\_

⑱ \_\_\_\_\_

⑲ \_\_\_\_\_

⑳ \_\_\_\_\_

## 解説編

## 7 瀬戸内 戦争の海 平和の海

人の流れ,  
モノの流れ

中国地方と四国にはさまれた瀬戸内海の近現代史は、「戦争と平和」のなかでゆれうごいていました。前近代以来、この地域は、列島のモノや人を運ぶ船が行きかう大動脈でした。中世の日宋貿易や日明貿易のルートでもありました。他方で、多くの水軍がこの地域を根拠地としていました。彼らは、武装集団であると同時に、貿易もおこなう海の民でした。近世には、この海を通過して日本各地の物産も、大坂に運ばれて来たのです。朝鮮通信使が通った道でもありました。

## 軍都広島

瀬戸内海は、幕末下関での四国連合艦隊との戦い、第2次長州征討（1866年）から戦争に大きくかわる海になっていきました。山がちな地域に多くの島々がある瀬戸内海地域では、はやくから出稼ぎがさかんでした。また、海外移民の数も多かったので、人の移動にとっても、戦争と平和の問題は無視できないものでした。

- ① 1899～1937年の累計で、広島県は移民数第1位を占めました。第2位は沖縄県です。
- ② 明治天皇も広島に行き、議会もひらかれました。同時に広島・宇品には戒厳令がかけられました。

## 日清戦争

日清戦争のときには広島に大本営がおかれます。近現代日本の戦争のたびに、宇品港からは兵士をのせた輸送船が出発していきました。広島には海軍の基地がおかれ、軍艦の造船所もありました。大久野島には毒ガス製造工場がつけられました。こうして瀬戸内海は、軍隊をささえ、戦争に大きくかわる地域になっていきました。1945年8月6日、広島に原子爆弾が投下されます。軍事施設や軍工場などが集中していた広島がねらわれたのです。

平和と軍事の  
せめぎあい

戦後、広島は「平和都市」として復興していきます。1955年には、世界ではじめての原水爆禁止世界大会がひらかれました。1970年には下関と朝鮮半島南部の釜山がフェリーでむすばれ、日本と韓国の交流のかけはしとなっていきます。しかし同時に、山口県岩国のように、現在でもアメリカ軍の基地がおかれている場所もあります。ベトナム戦争のさいには、岩国で活発な反戦運動がおこなわれました。1996年、世界遺産に登録された広島市産業奨励館（原爆ドーム）は、「戦争と平和の海」瀬戸内海地域をも象徴しています。



## 問題編

## 7 瀬戸内 戦争の海 平和の海…問題編

## 人の流れ、モノの流れ

中国地方と四国にはさまれた瀬戸内海の近現代史は、「戦争と平和」のなかでゆれうごいていました。前近代以来、この地域は、列島のモノや人を運ぶ船が行きかう大動脈でした。中世の〔 ① 〕や〔 ② 〕のルートでもありました。他方で、多くの水軍がこの地域を根拠地としていました。彼らは、武装集団であると同時に、貿易もおこなう海の民でした。近世には、この海を通過して日本各地の物産も、大坂に運ばれて来たのです。〔 ③ 〕が通った道でもありました。

## 軍都広島

瀬戸内海は、幕末下関での〔 ④ 〕との戦い、第2次〔 ⑤ 〕(1866年)から戦争に大きくかわる海になっていきました。山がち地域に多くの島々がある瀬戸内海地域では、はやくから出稼ぎがさかんでした。また、海外移民の数も多かったため、人の移動にとっても、戦争と平和の問題は無視できないものでした。

〔 ⑥ 〕のときには広島に大本営がおかれます。近現代日本の戦争のたびに、宇品港からは兵士をのせた輸送船が出発していきました。広島には海軍の基地がおかれ、軍艦の造船所もありました。大久野島には毒ガス製造工場がつけられました。こうして瀬戸内海は、軍隊をささえ、戦争に大きくかわる地域になっていきました。1945年8月6日、広島に〔 ⑦ 〕が投下されます。軍事施設や軍工場などが集中していた広島がねらわれたのです。

## 平和と軍事のせめぎあい

戦後、広島は「平和都市」として復興していきまします。1955年には、世界ではじめての〔 ⑧ 〕がひらかれました。1970年には下関と朝鮮半島南部の釜山がフェリーでむすばれ、日本と韓国の交流のかけはしとなっていきます。しかし同時に、山口県岩国のように、現在でもアメリカ軍の基地がおかれている場所もあります。〔 ⑨ 〕のさいには、岩国で活発な反戦運動がおこなわれました。1996年、世界遺産に登録された広島市産業奨励館(〔 ⑩ 〕)は、「戦争と平和の海」瀬戸内海地域をも象徴しています。

① \_\_\_\_\_

② \_\_\_\_\_

③ \_\_\_\_\_

④ \_\_\_\_\_

⑤ \_\_\_\_\_

⑥ \_\_\_\_\_

⑦ \_\_\_\_\_

⑧ \_\_\_\_\_

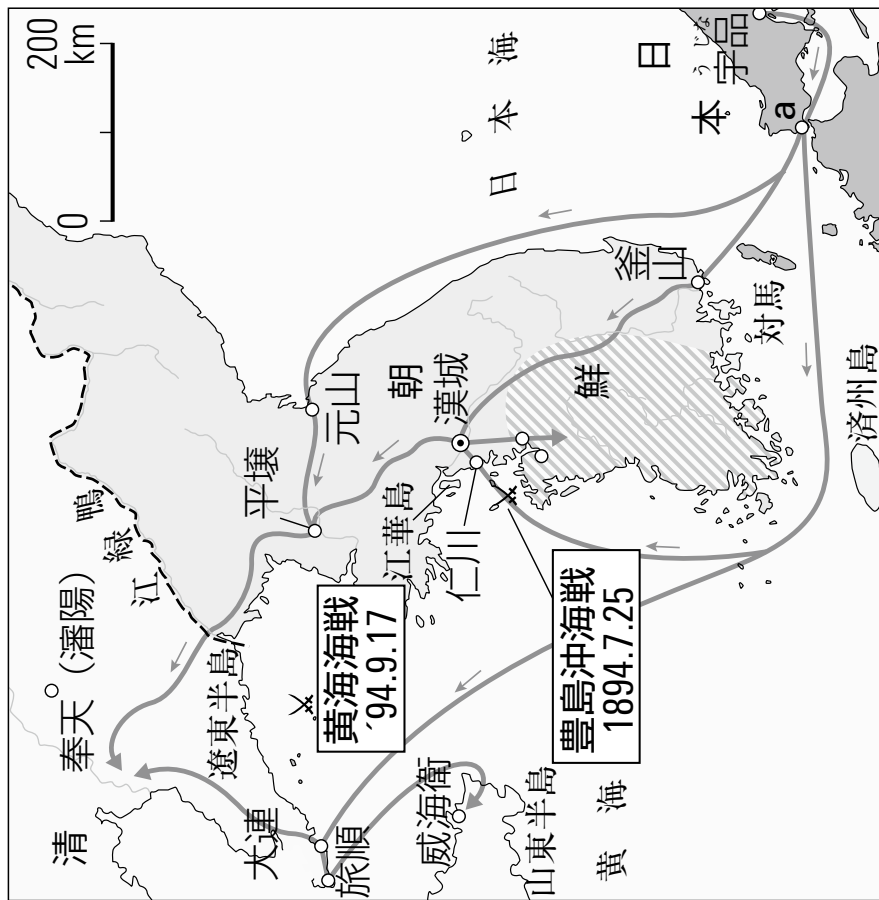
⑨ \_\_\_\_\_

⑩ \_\_\_\_\_

# 第2章 第1節2 日清戦争 第1節3 東アジアの変革

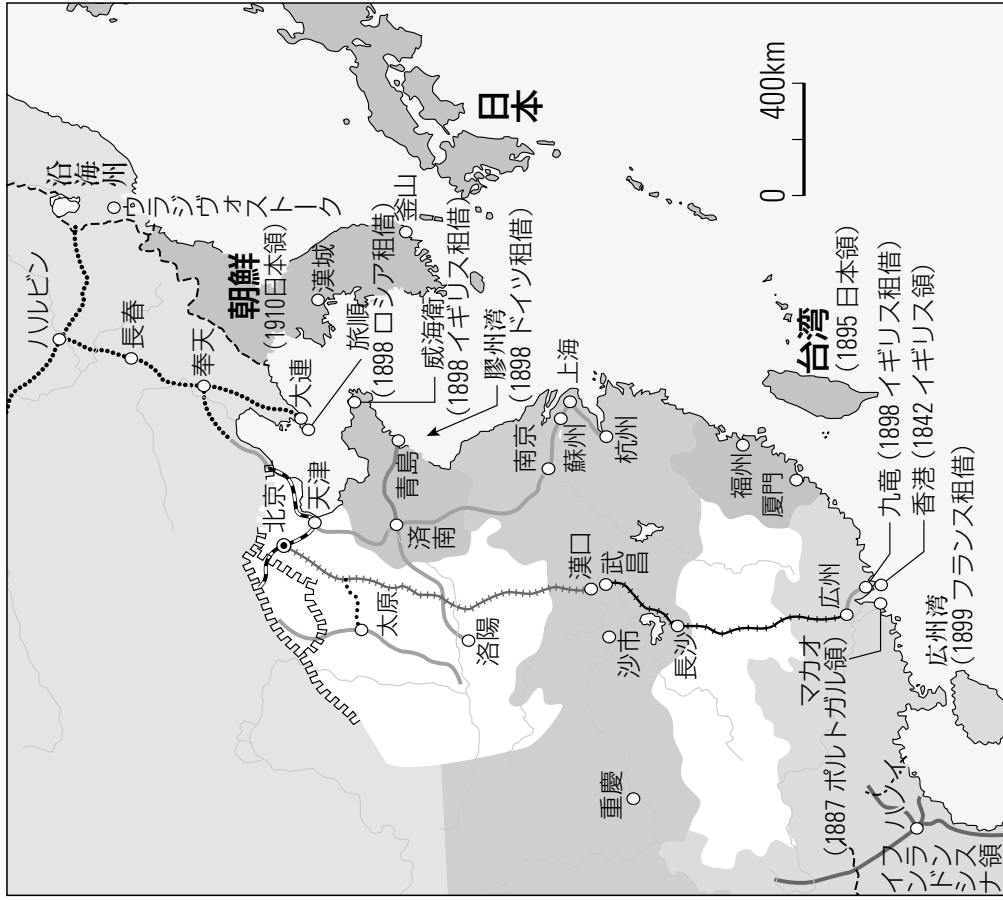
学年	組	番
名前		

〈1〉日清戦争関係図（教科書p.45）



- ① 1894年、地図中 を中心に展開した農民の反政府武装蜂起の名称を書きなさい。
- ② 日清戦争中の日本軍の進路を赤で着色しなさい。
- ③ 1895年、aで結ばれた日清戦争の講和条約の名を書きなさい。
- ④ ③で日本に割譲された島で、日本の支配に反対する人々を中心となって樹立された国の名を書きなさい。

## 〈2〉列強の中国分割 (教科書p.46)



① 中国分割後の列強の勢力範囲を次のように着色しなさい。

ドイツ=青

ロシア=緑

日本=赤

② 1898年にロシアが租借地とした旅順・大連がある半島は、三国干渉で日本が清国に返還したところである。半島の名を書きなさい。

③ 1897年、朝鮮は国号を改めた。この国号を書きなさい。



歴史地図問題 5 近代 2

教科書 p.188-191, 196, 207-209



【問題 1】第 1 次世界大戦前後の国際環境について、地図①～⑮に対応する以下の問いに答えなさい。

- ① 20 世紀初頭のドイツの世界政策構想だが、その関係は何とよばれるか。
- ② 20 世紀初頭のイギリスの世界政策構想だが、その関係は何とよばれるか。
- ③ 1911 年、孫文らの中国同盟会による革命で清王朝は倒れアジア初の共和国ができた。
- ④ 1914 年 8 月、日本は日英同盟を根拠にドイツに宣戦布告し参戦した。そして中国にあるドイツ権益を得ようとした。
- ⑤ 日本は 1915 年 1 月、中国政府に中国の主権を侵すことになる要求を強要した。
- ⑥ 1917 年 11 月、レーニンらの指導の下、世界初の社会主義国家がつくられた。
- ⑦ 欧米諸国と日本は、1918 年 8 月からソヴィエト政府を阻止しようと戦争をした。
- ⑧ ⑦の戦争を見越した米の買い占めを機に「越中女房一揆」がおき、全国に波及した。
- ⑨ 1918 年 11 月に終わった第 1 次大戦の講和会議が翌年からパリではじまり、条約が結ばれた。
- ⑩ 1919 年 3 月、朝鮮で日本の植民地政策への大規模な抵抗運動がおきた。
- ⑪ ⑨で日本の主張通りになることがわかると、中国で大規模な日本への抗議運動がはじまった。
- ⑫ 1919 年 5 月、インドでガンディによるイギリス支配への抵抗運動がはじまった。
- ⑬ 1920 年、スイスのジュネーブに本部を置く、世界初の平和のための国際機関がつくられた。
- ⑭ 1921 年 11 月から国際会議が開かれ、4 か国条約、9 か国条約・海軍軍縮条約がむすばれた。
- ⑮ 1928 年、「戦争は違法」とするはじめての国際法がむすばれ、日本も翌年批准した。

## 第1章 一問一答問題

## ■問題

- ①湖底からナウマンゾウの牙やオオツノジカの角が発見されたのは、どの県に位置している何という湖か。
- ②沖縄県で発見された旧石器時代の化石人骨を何というか。
- ③槍とナイフの刃部として使用し、切れ味がにぶると刃を交換できるため移動生活に適していた打製石器とは何か。
- ④手足を折り曲げて埋葬する縄文時代の風習を何というか。
- ⑤縄文時代に装身具として用いられ、新潟県姫川などで産出された石材を何というか。
- ⑥紀元前4世紀ごろに水稻農耕がはじまったことがうかがえる佐賀県の遺跡を答えなさい。
- ⑦弥生土器のうち、おもに煮炊き用として使われたのは何か。
- ⑧弥生文化は南西諸島では定着せず、漁労中心の独自の文化が展開した。この文化を何というか。
- ⑨弥生時代から脱穀に用いられた道具は、木臼と何か。
- ⑩弥生時代にみられる墓制で、遺体を一度土葬や風葬などで白骨化させ、その骨を壺形土器におさめて埋葬した墓を何というか。
- ⑪紀元前1世紀ごろには倭人の社会は百余りの国にわかれていたと記している中国の史書は何か。
- ⑫『後漢書』東夷伝によると、倭の奴国の王が印綬(金印)を与えられたという。誰から与えられたか。
- ⑬紀元1世紀ごろに近畿・東海で祭器として用いられていた青銅器を何というか。
- ⑭卑弥呼は239年、魏に使いを送り、何という称号を与えられたか。
- ⑮大阪府百舌鳥・古市古墳群に位置している巨大な前方後円墳は、大仙古墳と何という古墳か。
- ⑯前期の古墳でみられる縁の断面が三角形をした神や獣の形を鋳出した青銅鏡を何というか。
- ⑰7世紀の終末期古墳のなかで、唐の影響を受けた壁画で有名な古墳は、奈良県キトラ古墳と何という古墳か。
- ⑱楽浪郡、帯方郡を滅ぼした国はどこか。
- ⑲ヤマト政権の倭王武とは、のちに何という天皇として名づけられたか。
- ⑳ワカタケル大王という文字が刻まれた鉄剣が発見されたのは、埼玉県の何という古墳か。
- ㉑5世紀ごろ朝鮮半島から伝わった、硬質で陶質の土器を何というか。
- ㉒国造などの領域内に設定されたヤマト政権の直轄地を何というか。
- ㉓氏姓制度で、各氏の家柄や勢力に応じて与えられた身分を何というか。
- ㉔被疑者の罪の有無、訴訟当事者の主張の真偽を熱湯に手を入れさせて判断する呪術的な風習を何というか。
- ㉕古墳時代中期にみられる、中小の古墳がかたまっていくつ作られたものを何というか。

## ■解答欄

- ① \_\_\_\_\_
- ② \_\_\_\_\_
- ③ \_\_\_\_\_
- ④ \_\_\_\_\_
- ⑤ \_\_\_\_\_
- ⑥ \_\_\_\_\_
- ⑦ \_\_\_\_\_
- ⑧ \_\_\_\_\_
- ⑨ \_\_\_\_\_
- ⑩ \_\_\_\_\_
- ⑪ \_\_\_\_\_
- ⑫ \_\_\_\_\_
- ⑬ \_\_\_\_\_
- ⑭ \_\_\_\_\_
- ⑮ \_\_\_\_\_
- ⑯ \_\_\_\_\_
- ⑰ \_\_\_\_\_
- ⑱ \_\_\_\_\_
- ⑲ \_\_\_\_\_
- ⑳ \_\_\_\_\_
- ㉑ \_\_\_\_\_
- ㉒ \_\_\_\_\_
- ㉓ \_\_\_\_\_
- ㉔ \_\_\_\_\_
- ㉕ \_\_\_\_\_

## 第 10 章 一問一答問題

### ■解答欄

- ① \_\_\_\_\_
- ② \_\_\_\_\_
- ③ \_\_\_\_\_
- ④ \_\_\_\_\_
- ⑤ \_\_\_\_\_
- ⑥ \_\_\_\_\_
- ⑦ \_\_\_\_\_
- ⑧ \_\_\_\_\_
- ⑨ \_\_\_\_\_
- ⑩ \_\_\_\_\_
- ⑪ \_\_\_\_\_
- ⑫ \_\_\_\_\_
- ⑬ \_\_\_\_\_
- ⑭ \_\_\_\_\_
- ⑮ \_\_\_\_\_
- ⑯ \_\_\_\_\_
- ⑰ \_\_\_\_\_
- ⑱ \_\_\_\_\_
- ⑳ \_\_\_\_\_
- ㉑ \_\_\_\_\_

### ■問題

- ①ポツダム宣言にもとづき、日本占領のために設けられた連合国軍の司令部を、アルファベットの頭文字 3 文字で何というか。
- ②寄生地主を認めず、高率小作料から農民を解放して、自作農創設をめざした。この改革を何というか。
- ③持株会社を解体して株式の民主化をはかり、財閥家族の支配力の排除をめざした改革を何というか。
- ④最低賃金や労働時間などの労働条件を規定した法律を何というか。
- ⑤幣原内閣総辞職後の総選挙で第一党になった自由党の総裁は誰か。
- ⑥義務教育 9 年制と男女共学などを定めた、1947 年に制定された法律を何というか。
- ⑦1948 年 12 月、GHQ は日本経済の自立と復興を目的として、徴税の強化や物価統制など 9 項目を発表した。これを何というか。
- ⑧財政支出を抑えた超均衡予算や、貿易安定のための単一為替レートの設定など、日本経済を安定させるための財政金融政策を何というか。
- ⑨朝鮮戦争開始前後から、共産党員やその同調者が公職や教職、職場から追放された。この出来事を何というか。
- ⑩朝鮮戦争に出撃した在日米軍にかわって、日本の治安を維持するために創設された軍事組織を何というか。
- ⑪朝鮮戦争開始後、米軍から武器や繊維製品などの軍需品の発注が増え、日本経済が復興するきっかけをつくった。この特別需要を何というか。
- ⑫サンフランシスコ平和条約の調印と同じ日に、米軍の駐留などを定めた日米間の条約を何というか。
- ⑬1952 年に調印され、駐留米軍施設の無償提供など、在日米軍の配備などに関する細目を定めた協定を何というか。
- ⑭第 2 次世界大戦における日ソ間の戦争状態を終結させた、1956 年の宣言を何というか。
- ⑮1960 年、日米安全保障条約が改定され、相互の防衛義務や核兵器持ちこみの際の事前協議制などが定められた。条約を何というか。
- ⑯新安保条約と同時に締結された、在日米軍の施設や軍人の地位に関する協定を何というか。
- ⑰安保改定後、辞職した岸信介にかわり首相になった人物で、「国民所得倍増計画」を打ち出して、高度経済成長政策を推進した人物は誰か。
- ⑱四大公害訴訟のうち、富山県神通川流域で発生したカドミウムによってひきおこされた中毒症を何というか。
- ⑲1968 年に実施された琉球政府主席公選で、施政権の即時無条件全面返還を主張し、当選した人物は誰か。
- ⑳1965 年に日本と大韓民国との間で調印された、外交関係の樹立などを定めた条約を何というか。
- ㉑「公開・自主・民主」の原子力の平和利用三原則を掲げて制定された、原子力行政の基本法を何というか。

第1章 章末問題

1 次の史料を読み，設問に答えよ。

第三条 下田・箱館の港の外，次にいふ所の場所を左の期限より開くべし。【 ① 】・長崎・新潟・兵庫（期限略）

第四条 総て国地に輸入輸出の品々，別冊の通，日本役所へ運上を納むべし。

第六条 【 ② 】人に対し，法を犯せる亜米利加人は，亜米利加コンシュル裁断所にて吟味の上，亜米利加の法度を以て罰すべし。亜米利加人へ対し，法を犯したる日本人は，日本役人糺ただしの上，日本の法度を以て罰すべし。

- 問1 この条約名を答えよ。
- 問2 この条約を締結したときの幕府の権力者はだれか。
- 問3 【 ① 】に入る地名を答えなさい。
- 問4 第四条が日本にとって不平等とされるのはなぜか。
- 問5 【 ② 】に適語を入れなさい。
- 問6 開国後の1865年の貿易について，日本の最大の輸入品，日本の最大の輸出品，日本の最大の貿易相手国，日本の最大の貿易港を答えよ。
- 問7 開国後の物価上昇に対して，幕府が出した命令はなにか。
- 問8 開国後，国外に金が大量に流出したのはなぜか。

問1		問2	
問4			
問5			
問6			
問7		問8	

- 2 (ア)～(カ)の文章は，幕末の情勢について述べた文である。以下の問題に答えよ。
- (ア) 将軍徳川家茂と皇女和宮を結婚させる政策を実行した。
- (イ) 薩摩藩と長州藩は坂本竜馬や中岡慎太郎の仲介によって同盟を結んだ。
- (ウ) 一橋派や条約調印反対派を井伊直弼が弾圧したことに憤激した水戸浪士たちは，井伊直弼を暗殺した。
- (エ) 会津・薩摩藩が中心となり，長州勢と尊攘派の公家を京都から追放し，尊攘派の朝廷への影響力を奪った。
- (オ) 島津久光によって改革がおこなわれ，幕府に新たな役職が設置された。
- (カ) 禁門の変の後，長州藩は朝敵として幕府に追撃を受け降伏した。
- 問1 (ア)～(カ)の文が示す事件名を書きなさい。
- 問2 (ア)～(カ)の出来事を時代の古い順に並べ替えなさい。



問 3 小御所会議における決定事項を書きなさい。

問 1	ア		イ		ウ		エ	
	オ		カ					
問 2	→ → → → →							
問 3								

3 以下の文章を読み設問に答えなさい。

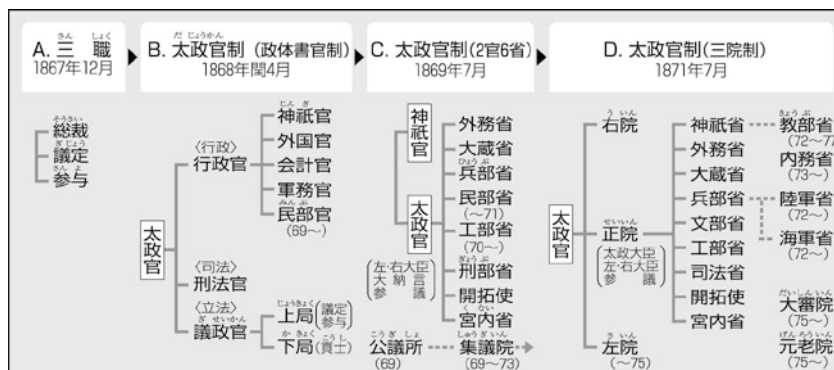
1866 年に誕生した新政府は、1868 年 (ア) の戦いから五稜郭の戦いまで続く (イ) で旧幕府軍と戦うこととなった。(ア) の戦いに勝利して畿内を制圧した新政府は、関東、東北、箱館へと軍をすすめた。一方、旧幕府軍側の動きでは、特に東北と北越の諸藩が (ウ) を結成して新政府に対抗するなど、強固な姿勢を示したが新政府軍にやぶれ、1869 年 5 月に榎本武揚が五稜郭の戦いに敗れて降伏し、(イ) は終結した。

この戦争のさなか、新政府は対外向けに (エ) を発布し、民衆へは (オ) を掲げ、方針を示した。続いて閏 4 月、(カ) で太政官制を定め、新政府の仕組みを整えた。さらに江戸を (キ) と改め、元号を明治にかえ、天皇一代は同じ元号を用いる (ク) を採用することを決めた。

新政府は中央集権化をめざし、土地と人民を朝廷に返す (ケ) を実施し、さらに御親兵の武力を背景に廃藩置県を断行した。廃藩置県によって、新政府が府知事・県令を任命し派遣することが可能となり、中央集権的な権力がここに確立した。

問 1 文中の空欄 (ア) ~ (ケ) に適語を入れなさい。

問 2 下の図 A~D は中央官制図である。この中で廃藩置県後の中央官制はどれか、選びなさい。



問 1	ア		イ		ウ		エ	
	オ		カ		キ		ク	
	ケ							
問 2								

第1回定期試験

教科書 p. 12~61

1 次の文章の空欄に適語を入れなさい。

藤原氏は、不比等の時代に律令の編さんなどに功績をあげ、宮廷内における地位を固めた。その後、天武天皇の孫の( ① )を自殺に追いこみ、不比等の娘、光明子を聖武天皇の皇后にたてた。しかし疫病の流行によって不比等の4子があいついで亡くなると、皇族出身の( ② )が権力をにぎった。これに対して藤原広嗣が九州で反乱をおこしたが敗北した。政界の動揺が続くなかで、( ③ )天皇は仏教の力を借りて社会の混乱をしずめようと考え、741年に( ④ )建立の詔を、743年には大仏造立の詔を出した。

光明皇太后の信任を得た( ⑤ )が権力をにぎると、( ② )の子の奈良麻呂が反乱をくわだてたが、失敗した。光明皇太后の死後、僧( ⑥ )が孝謙上皇の信頼を得ると、( ⑤ )が反乱を企てたが失敗した。( ⑥ )は法王となり天皇の位につこうとしたが、( ⑦ )や和気清麻呂らに妨げられ、下野国の薬師寺に追放された。( ⑧ )天皇のあとを継いだ桓武天皇は784年に( ⑨ )に遷都し政治改革に乗り出した。ところが、造営事業の責任者である( ⑩ )が暗殺される事件などがおき、794年にはより大規模な平安京に遷都した。

①	②	③	④
⑤	⑥	⑦	⑧
⑨	⑩		

2 次のA~Dの史料を読み、下の設問に答えなさい。

- A 使を遣わして上表して曰く、「封国は偏遠にして、藩を外に作す。昔より祖彌躬ら甲冑を撰き、山川を跋涉して、寧所に違あらず…」
- B 夫れ( ① )海中に倭人有り、分れて百余国を為す。歳時を以て来り献見すと云ふ。
- C 其の国、本亦男子を以てと為す。住まること七、八十年。倭国乱れ、相攻伐すること歴年、乃ち共に一女子を立てて王と為す。名を( ② )と曰ふ。
- D 建武中元二年、倭の奴国、貢を奉じて朝賀す。使人、自ら大夫と称す。倭国の極南界なり。光武、賜ふに印綬を以てす。

- 問1 史料Aは倭王武の上表文であるが、『日本書記』などによれば武は何天皇にあたるか。
- 問2 史料Aの上表文は中国の何という王朝に提出されたものか。
- 問3 史料Bの空欄①に適語を入れなさい。
- 問4 史料Cの「其の国」とは何という国か。
- 問5 史料Cの空欄②に適語を入れなさい。
- 問6 史料Dの印綬(金印)に刻まれていた漢字5文字を書きなさい。
- 問7 史料Dの印綬の授与が奴国王にとってどのような意味があるのか説明しなさい。
- 問8 史料A~Dを年代の古い順に並び変えなさい。

問1	問2	問3	問4
問5	問6		
問7			問8

3 次の文章の空欄にあてはまる言葉を、下の語群から記号で選びなさい。

10世紀ころから、貴族や寺社などが所有する荘園は、納税免除の(①)が認められるようになった。このような荘園を(②)という。公領の耕地では、(③)とよばれる課税単位に編成され、(④)とよばれる有力農民が、(⑤)・臨時雑役などの納税を請け負う形式に変わった。11世紀になると、大規模な経営地をもつ(⑥)のなかから、農民を使って開発をすすめ、(⑦)となる者もあらわれた。彼らのなかには、税の免除を求めて、開墾地を中央の貴族や寺社に(⑧)して国免荘とする者も多かった。政府は国免荘の拡大をおさえるため、荘園整理令をたびたび発した。1068年に即位した(⑨)天皇は、翌年に(⑩)の荘園整理令を出して記録所を設置し、摂関家の経済基盤に打撃をあたえた。

〔語群〕	ア	田堵	イ	延久	ウ	延喜	エ	年貢	オ	寄進	カ	不輸の権
	キ	不入の権	ク	官物	ケ	寛徳	コ	名	サ	醍醐	シ	年貢
	ス	大名田堵	セ	開発領主	ソ	後三条	タ	官省符	チ	名田		

①	②	③	④	⑤	⑥	⑦	⑧	⑨	⑩
---	---	---	---	---	---	---	---	---	---

4 次のA～Dに登場する「彼」とはだれか、その名前を書きなさい。また空欄には適語を入れ、下線部については下の設問に答えなさい。

- A 武士としてはじめて太政大臣に就任した「彼」は、①天皇の外祖父となって権勢をほこった。日宋貿易にも力を入れ、(ア)を修築して瀬戸内海航路を整備した。
- B 唐で②密教を学んだ「彼」は、京都の(イ)や高野山の金剛峰寺で真言宗をひろめた。また、庶民を教育する綜芸種智院をひらき、書道では(ウ)の一人としてたたえられた。
- C 壬申の乱に勝利した「彼」は、飛鳥浄御原宮で即位し天武天皇となった。天皇は③皇族を頂点とする身分秩序を定め、律令や国史の編集、都の建設にも着手した。
- D 浄土教の教えをひろめた「彼」は、京都で④念仏を唱えることをすすめ「市聖」とよばれた。この信仰は(エ)思想の流行もあって身分を問わずひろまった。

- 問1 下線部①について、この時の天皇の名前を書きなさい。
- 問2 下線部②について、密教のなかでも天台宗は「台密」というのに対して、真言宗は何というか。
- 問3 下線部③について、この身分秩序を何というか。
- 問4 下線部④について、念仏を漢字6文字で書きなさい。

A	B	C	D
ア	イ	ウ	エ
問1	問2	問3	問4

## 第2章 水稻農業の開始と社会生活の進展

## 1 弥生時代の社会と文化

p.18~p.21 | 教科書

## 事項解説

**弥生文化** 日本列島で稲作を主とする食料生産に基礎を置く生活がはじまった最初の文化をいう。鉄器、青銅器が出現して石器が徐々に消滅し、紡織が始まり、階級の成立、国家の誕生に向かって社会が胎動し始めた。弥生文化の時代、すなわち弥生時代は縄文時代に後続して古墳時代に先行し、およそ前4世紀なかごろから後3世紀後半までを占める。弥生文化は、基本的に食料採集に依存する縄文文化と根本的に性格を異にする一方、後続する古墳文化以降の社会とは経済的基盤を等しくする。つまり水稻耕作を主として食用家畜を欠く農業、米を主食とする食生活は弥生文化に始まり、現代に至る日本文化を基本的に特色づけることになったのである。弥生文化の領域は、南は薩南諸島から北は東北地方までに及び、縄文文化の領域であった屋久島以南から沖縄諸島にかけてと北海道においては、弥生時代以降も食料採集に基礎を置く生活が続いた。弥生文化は、在来の縄文文化に大陸から稲作農耕、金属器文化が影響を与えることによって成立した新文化である。そのため最古の段階から縄文文化からの伝統的要素と大陸伝来の新要素との両者が認められ、やがて弥生文化固有の性格が形成されている。大陸系の要素には、中国系・朝鮮系の両者がみられ、前者は楽浪郡を通じて朝鮮から到来したものが多い。このうち最も問題とされるのは稲作伝来のルートである。現状の考古学的事実からすると、朝鮮半島から到来した可能性が最も大きい。しかし、高床倉庫のように、中国の長江流域やその以南にしか源流が求められないものもあり、中国から直接到来した文物があったことも認めなければならない。大陸系の要素は、当然ながら北九州に濃厚で、東北地方に最も希薄であり、逆に縄文系の要素は東日本に濃く西日本に薄い。

**弥生土器** 弥生時代に使用された土器。縄文土器に後続し、古墳時代の土師器に先行する。1884年に東京本郷の弥生町向ヶ丘貝塚（弥生町遺跡）で採集された土器がもとになって、90年代から「弥生式土器」という名称が生まれた。現在は「式」を除く呼称が一般的である。弥生土器が用いられた、弥生文化の領域は、南は九州地方から北は東北地方までである。その南と北では、沖縄先史時代後期土器と続縄文土器が行われた。弥生土器を構成するおもな器種に壺・甕・鉢・高坏があげられる。壺は胴が丸く、頸がすぼまり、口が大きく外反する形態を典型とする。甕

は、釣鐘を逆さにしたような形の、丈が高く広口の器で、縄文土器では深鉢と呼ぶものに相当する。高坏はコンボート（脚付きのフルーツ皿）に似た形。台付壺や台付甕もあり、壺や甕には別作りの蓋をそなえるものもある。

**環濠集落** 縄文時代晩期から弥生時代にかけて日本各地で形成された、集落の周囲に環濠をめぐらせた集落。弥生前期末以降の環濠集落は、濃尾平野以西の各地域に水稻農耕が定着した段階であり、その定着によって引き起こされた水争いなどの村落間の戦いに備えて独自に成立した。そのころ、福岡市板付遺跡と大阪府高槻市安満遺跡などに環濠集落があらわれる。これらの遺跡の環濠は明らかにムラを防御していると考えられる。倭国における王権形成期とされる弥生中期には防衛的性格を強め、高地性集落とともに、王権形成過程の軍事的動向を反映していると考えられている。王権形成が進み古墳時代にはいると、首長層は共同体の外部に居館を置くようになり、環濠集落はしだいに解体される。

**高地性集落** 一般に人間が生活するには適さない山地の頂上や斜面から、弥生時代中期～後期の集落遺跡が発見されることがある。これを高地性集落と呼ぶ。高地性集落の分布は、弥生中期に中部瀬戸内と大阪湾岸に、弥生後期には近畿とその周辺部にほぼ限定されている。そして、集落遺跡の多くは平地や海を広く展望できる高い位置にあり西方からの進入に備えたものであり、焼け土をとまうことが多いことから、のろし台の跡と推定されている。調査からは、高地性集落が一時的というより、かなり整備された定住型の集落であることがわかっている。また、狩猟用とは思えない大きさの石鏃も高地性集落の多くから発見されている。以上を総合して、高地性集落を山城のように軍事的性格の強い集落とする意見が主流を占めている。

**方形周溝墓** 低い方形の墳丘の周囲に浅い溝をめぐらせた墓。弥生時代を中心に発達した。方形区画は一辺5～15mの正方形ないし長方形で、幅1m内外の溝を掘り、その排土を内側に積んで低い墳丘をきずいた。後世の削平により墳丘を残さないものが多い。削平を免れた大阪府瓜生堂遺跡の場合、盛り土の高さは約1mあった。方形区画内にふつう1体から数体の埋葬を行うが、1基に十数体の例もある。埋葬様式は木棺を中心に土器棺、土壙墓をとまう。また周溝内に土壙を掘って埋葬する場合もある。こうして成人男女、幼児など複数の人が周溝墓

p.13  
～  
p.17

教科書

第1章

2

日本文化のあけぼの

## 縄文時代の社会と文化

## 学習の目標

- ①地球環境の急激な変化により日本列島が大陸から切りはなされたころ、土器をもつ新たな文化としての縄文文化が成立したことを理解させる。
- ②縄文土器・打製石器・磨製石器・骨角器・木器などの遺物や、竪穴住居・貝塚などの遺構から縄文時代の人々の生活について理解させる。
- ③狩猟・漁労・採集という食料獲得方法が、自然に大きく依存していたことに着目させ、土偶や抜歯などの習俗から当時の人々の精神生活について考察させる。

## 要点の整理

## 1. 縄文文化の成立

- ①地球温暖化（完新世、約1万5千年前から約1万年前）
- ②縄文文化の成立（約1万3千年前）
  - 特色
    - ◆狩猟・漁労・採集
    - ◆縄文土器・磨製石器使用
    - ◆弓矢発達
    - ◆定住化
  - 時期区分～約1万3千年前から紀元前4世紀までの約1万年間  
→草創期・早期・前期・中期・後期・晩期の6期区分
  - 大型動物の絶滅～シカ・イノシシなどの中小動物狩猟→弓矢・落し穴
  - 縄文海進のピーク（縄文前期・約6000年前）→漁労の活発化
  - 気候温暖化～東日本（落葉広葉樹林）→土掘り用打製石鍬・石皿・すり石の発達
  - 縄文土器～貯蔵容器・煮沸用具
- ③縄文時代に農耕はあったのか（縄文農耕論）
  - 長野県尖石遺跡（縄文中期） 大型打製石斧（石鍬）の大量出土
  - 福井県鳥浜貝塚（縄文前期） 低湿地遺跡から栽培植物の種子発見
  - 縄文中期～後期の土器からイネのプラントオパール発見

## 2. 縄文時代の生活

- ①集落の形成～竪穴住居、日当たりのよい台地上、貝塚の形成、貯蔵穴
- ②遠隔地との交易～石器原料、接着剤、装身具用石材、通婚
- ③東日本の優位性→集落密度高く、人口多～植物資源（木の実）と動物資源（鮭）が豊富

## 3. 縄文時代の社会と習俗

- ①人口の増加と深刻な飢餓→不安定な社会
- ②平等な社会～貧富の差や階級差なし
- ③アニミズム～自然物崇拝→ゆたかな収穫を祈願、土偶（女性表現）と石棒（男性表現）
- ④習俗～装身具発達・入れ墨の風習・抜歯（通過儀礼）
- ⑤共同墓地の成立（縄文前期）～土壙墓・屈葬・叉状研歯→特別な指導者・呪術者の存在

## 4. 日本人の起源

- ①原日本人（古モンゴロイドの系譜）～新モンゴロイドとの混血→現日本人のルーツ
- ②原日本語～ウラル・アルタイ語系言語（北方系）と南方系言語の特色

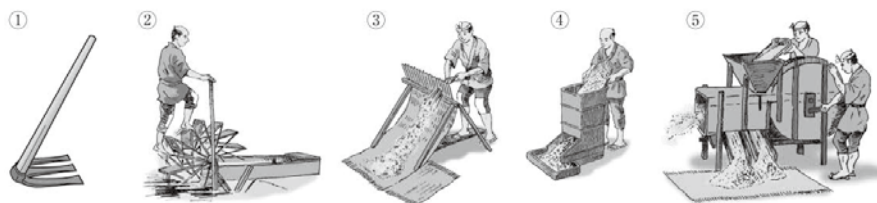
24

第 8 章 幕藩体制の動揺と文化の成熟

## 2 経済の発展

P.176～183

1 次の図を見て当てはまる農具の名前を答えよ。



①	②	③	④	⑤
---	---	---	---	---

2 次の文章を読み、設問に答えよ。

江戸時代には、幕府の積極的な街道・宿駅整備や、参勤交代制による大名の往復、商品流通の発展などにより交通がさかんになった。陸上交通では、まず江戸の(1)を起点とする①五街道と、それにつぐ山陽道・山陰道・北国街道などの脇街道（脇往還）が整備された。また、大名領国内では、城下町を中心に放射状に道路がつくられた。主要街道には宿場が設けられ、大名・公家や幕府役人が宿泊する(2)・脇本陣、一般の旅人の宿泊施設である旅籠・木賃宿のほか、幕府の公用の文書や荷物を送る(3)などのための問屋場がおかれ、一定数の人足・馬が用意された。宿場で用意した人馬だけでまかないきれない場合には、(4)役として不足分が近隣の村々に課された。街道には1里ごとに(5)がつくられ、要所には(6)がおかれた。江戸近郊の(6)では、江戸の治安と人質監視のため、とくに「入鉄砲に出女」をきびしく取り締まった。陸上での物資輸送にはさまざまな制約があったのに対し、水上での輸送は大量の物資を安価に運べる利点があったため、各種の水上交通が発展した。②淀川・利根川・最上川などの河川交通や琵琶湖の湖上交通がさかんとなったほか、海上交通では、江戸—大坂間（南海路）で(7)船・樽廻船が就航した。17世紀後半には、江戸商人(8)が東北地方の幕府直轄領の年貢米を江戸に運ぶため、東廻り航路・西廻り航路を整備した。のち、西廻り航路では(9)船が活躍した。

問1 (1)～(9)に適語を入れよ。

問2 下線部①の五街道について、下記の説明を当てはまる街道の名称を答えよ。

- ア. 江戸から箱根・新居を経て、京都・大坂に向かう街道。
- イ. 江戸から小仏を経て、下諏訪に向かう街道。
- ウ. 江戸から栗橋を経て、日光に向かう街道。
- エ. 江戸から栗橋を経て、白河に向かう街道。
- オ. 江戸から碓氷・木曾福島を経て、草津に向かう街道。

問3 下線部②に関連して、幕府の命を受けて高瀬川の開削を行った商人の名前を答えよ。

問1	(1)	(2)	(3)	(4)
	(5)	(6)	(7)	(8)
	(9)	問2	ア	イ
問2	エ	オ	問3	

③ 次の文章を読み、設問に答えよ。(7)・(8)は順不同)

①三都には、蔵物・納屋物が大量に集まったが、とくに大坂には諸藩の蔵屋敷が多数おかれ、(1)・掛屋とよばれる商人が蔵物の販売にたずさわったほか、納屋物の販売もさかんであった。

②江戸・大坂では、主要商品ごとに専門の卸売市場が設けられた。流通のにない手としての商人たちは問屋・(2)・小売に分化した。問屋・(2)のなかには同業者組合である(3)をつくって営業独占をはかる者もあらわれた。幕府は最初、特定の業種をのぞき(3)を認めていなかったが、17世紀後半には商品の供給や品質の管理のためにそれを認めるようになった。流通の大動脈である江戸―大坂間の商品の安全な輸送や取引の円滑化をはかるため、17世紀末に結成された大坂の(4)問屋、江戸の(5)問屋は、その代表的なものである。小売商人のなかには、店舗をもつ者もいたが、多くは店舗をもたず行商をおこなう振売・(6)であった。商業の発展にともない、貨幣制度も整備された。貨幣鑄造権を独占した幕府は、(7)・(8)・錢座を設けて金・銀・銭の三貨を統一通貨として発行し、全国に通用させた。17世紀後半以降には、諸藩でも領内だけに通用する(9)を発行するようになった。三貨は金1両＝銀50匁(のち60匁)＝銭4貫文というように、交換の基準相場が定められていたが、実際には相場はたえず変動した。また、おもに西日本では銀貨が、東日本では(10)が用いられたため、両替商が重要な役割をはたした。両替商は通貨の秤量や両替だけでなく、為替取引や貸し付けもおこない、大坂の鴻池・天王寺屋など有力なものは(11)貸や公金取り扱いによって、領主経済を左右するほどであった。このほかの金融機関としては、質屋や高利貸があり、また相互扶助的なものとして無尽・(12)講があった。

問1 (1)～(12)に適語を入れよ。

問2 下線部①の三都とは、江戸と大坂とあと一つはどこか答えよ。

問3 下線部②に関連して、大坂の米市場はどこにあったか答えよ。

問1	(1)	(2)	(3)	(4)
	(5)	(6)	(7)	(8)
	(9)	(10)	(11)	(12)
問2		問3		

## 57 第8章 一問一答問題

- |      |  |
|------|--|
| (1)  | (1) 1651年、幕府の転覆をはかろうとするが未然に発覚して処罰される事件があった。この事件の中心となった軍学者はだれか。           |
| (2)  | (2) 4代将軍家綱を補佐した、3代将軍家光の異母弟で「名君」とよばれた陸奥会津藩主はだれか。                          |
| (3)  | (3) 武力だけにたよらず、儒教をもとに徳をもっておさめる江戸幕府の政治理念を何主義と<br>いうか。                      |
| (4)  | (4) 5代将軍綱吉の時代に、側用人として用いられ、のちに甲府15万石の大名となったの<br>はだれか。                     |
| (5)  | (5) 5代将軍綱吉の時代に、江戸の湯島に孔子をまつる大成殿が建てられたが、これを別名<br>で何というか。                   |
| (6)  | (6) 上記の頃、林家で最初に大学頭に任じられたのはだれか。   |
| (7)  | (7) 上記の頃、新たな暦を作成して、幕府の天文方に任じられたのはだれか。                                    |
| (8)  | (8) 綱吉が出した、捨子・捨牛馬の禁止や犬愛護などの法令を何というか。                                     |
| (9)  | (9) 綱吉が、勘定吟味役（のち勘定奉行）に登用して幕府の財政改革にあたらせた人物はだ<br>れか。                       |
| (10) | (10) 6代将軍家宣・7代将軍家継の時代に側用人として、政治の実権をにぎったのはだれか。                            |
| (11) | (11) 6代将軍家宣・7代将軍家継の時代の政治を何というか。  |
| (12) | (12) 1715年、長崎貿易の額を制限した法令は何か。   |
| (13) | (13) 17世紀末、町人が請け負って行われた新田開発を何というか。                                       |
| (14) | (14) 17世紀中期、新たな製塩法の発展により、瀬戸内海沿岸の塩の生産量が増大したが、<br>この製塩法を何というか。             |
| (15) | (15) 江戸日本橋を起点とする東海道・中山道・甲州道中・日光道中・奥州道中などの街道<br>を総称して何というか。               |
| (16) | (16) 主要街道に設けられた大名・公家や幕府役人が宿泊する施設を何というか。                                  |
| (17) | (17) 江戸一大坂間を、酒樽を載せて運んだ船を何というか。   |
| (18) | (18) 東北地方の幕府直轄領の年貢米を江戸に運ぶため、東廻り航路・西廻り航路を整備し<br>た江戸の商人はだれか。               |
| (19) | (19) 江戸・大坂・京などの蔵屋敷に送られた年貢米・特産物などの貢納物を何というか。                              |
| (20) | (20) 問屋・仲買などの同業者組合を何というか。  |
| (21) | (21) 17世紀後半以降、諸藩で領内だけで通用する紙幣を発行したが、これを何というか。                             |
| (22) | (22) 金貨・銀貨・銭貨の交換などを行う商人を何というか。   |
| (23) | (23) 旗本・御家人に支給される蔵米（切米や扶持米）の受取・換金を行い、さらに蔵米を<br>担保に旗本・御家人に貸付を行った商人を何というか。 |
| (24) | (24) 17世紀後半から18世紀はじめにかけて、上方都市を中心に文芸・学問・芸術が著し<br>く発展したが、この文化を何というか。       |
| (25) | (25) 『好色一代男』や『日本永代蔵』などの作品を書いた人物はだれか。                                     |



- (26) 17世紀後半、大坂道頓堀に人形浄瑠璃の竹本座を創設した人物はだれか。(26)
- 
- (27) 藤原惺窩の門人で、徳川家康の侍講を務め、朱子学をひろめた人物はだれか。(27)
- 
- (28) 明から禅宗の一派である黄檗宗を伝えたのはだれか。(28)
- 
- (29) 6代将軍家宣・7代将軍家継の侍講を務め、『読史余論』などの数々の著作を残した人物はだれか。(29)
- 
- (30) 『大和本草』を著した本草学者はだれか。(30)
- 
- (31) 『農業全書』を著した人物はだれか。(31)
- 
- (32) 8代将軍徳川吉宗がおこなった幕府の改革を何というか。(32)
- 
- (33) 上記の改革で、諸大名に1万石あたり100石の米を幕府に上納させる制度が定められたが、何というか。(33)
- 
- (34) 上記の改革で、金銭貸借について訴訟を受けつけず、当事者どうしで解決させる法令が出されたが、その法令は何か。(34)
- 
- (35) 10代将軍家治の側用人から老中にすすみ、幕府の実権を握った人物はだれか。(35)
- 
- (36) 17世紀後半、村役人が村民を代表して領主に直訴する一揆を何というか。(36)
- 
- (37) 松平定信が老中として行った幕府の改革を何というか。(37)
- 
- (38) 上記の改革で、旗本・御家人の札差への債務を破棄する法令を何というか。(38)
- 
- (39) 1808年、樺太から大陸の黒竜江河口を探検し、樺太と大陸の間に海峡があることを確認した人物はだれか。(39)
- 
- (40) 1808年、イギリス軍艦がオランダ商船を捕獲するために長崎港に侵入した事件を何というか。(40)
- 
- (41) 1805年、関東の農村などの治安維持をはかるために設置された役職は何か。(41)
- 
- (42) 18世紀、問屋が都市民や農民に原料や資金を前貸し、加工賃を払って製品をひきとる生産方式を何というか。(42)
- 
- (43) 19世紀、綿織物業や絹織物業などで、賃労働者を工場に集め、生産の各工程に数名ずつ配置して労働に従事させる生産方式を何というか。(43)
- 
- (44) 幕府のモリソン号事件の対応を批判した高野長英・渡辺崋山などを処罰した事件を何というか。(44)
- 
- (45) 1841年から、老中水野忠邦がおこなった幕府の改革を何というか。(45)
- 
- (46) 長州藩において、藩債整理や越荷方の設置などの藩政改革を主導した人物はだれか。(46)
- 
- (47) アヘン戦争の情報が幕府にもたらされると、幕府は1842年に異国船打払令にかけて新たな法令を出したが、その法令は何か。(47)
- 
- (48) 洒落本の『仕懸文庫』などの作者で、寛政の改革で処罰された人物はだれか。(48)
- 
- (49) オランダ商館付きのドイツ人医師で、長崎郊外の鳴滝塾で診療と医学・博物学などの教育を行ったのはだれか。(49)
- 
- (50) 中山みきが始めた宗教は何か。(50)
-

本文の要点整理に図版を組み合わせた PowerPoint 教材。学習要素を効果的に提示でき、この教材だけで授業を行うことが可能です

**鎌倉文化の特徴**

Q 鎌倉時代に新たな文化のいない手となったのは？

- 鎌倉時代の文化の特徴
  - 武士が新たに文化のいない手となり、素朴で質素な気風は美術や宗教などに影響をあたえる

Q 学習のポイントとなる発問を表示

**鎌倉文化の特徴**

- 商人・僧侶、モンゴルからのがれた禅僧により大陸の新しい文化がもたらされる
- 公家の文化が衰退し、武士の文化が中心となる
- 仏教が文化の中心となり、その影響を及ぼし、武士の文化にも影響をあたえる

Q 鎌倉時代に新たな文化のいない手となったのは？

A 武士が新たな文化のいない手となる

**鎌倉仏教**

Q 鎌倉新仏教とよばれるのはどのような宗派なのか？

① 鎌倉仏教

- 中世の仏教界の中心勢力は東大寺、西大寺、南無阿彌陀仏の寺・東寺などの旧仏教勢力
- 仏教界のなかで仏教革新の運動がおこり、急進派の二つの潮流

**鎌倉仏教**

② 穏健派による仏教革新

- 穏健派は戒律の乱れに原因があると考え、戒律の尊重へと向かう
- 貞慶（解脱）と明恵（高弁）が、法を革新しながら、戒律の尊重を唱え、浄土宗を創始する
- 俊房は、中国から新しい戒律（律宗）を伝来し、浄土宗をひらく

**鎌倉仏教**

- 真言律宗の叡尊（思円）と忍性（良観）も新しい戒律をかけた、非人や病人の救済につとめた
- 栄西は、宋から禅宗を伝えて『興禅護国論』をあらわし、鎌倉幕府の保護を受けて建仁寺を創建
  - のちに日本の臨済宗の祖と仰がれる

**鎌倉仏教**

- 幕府は中国から多くの禅僧をまねく
  - 蘭溪道隆は北条時頼の帰依を受けて建長寺を開創し、無学祖元は時宗の保護で円覚寺を開創する
- 臨済禅や真言律宗の僧侶たちを禅律制仏教の一角を占める

**鎌倉仏教**

③ 急進派による新しい仏法の探究

- 急進派は、一つの道（念仏・題目・座禅）によってのみ救われると説く
- 法然は浄土宗をひらく
  - 南無阿彌陀仏の念仏を唱えることだけが極楽往生の道であると説く


**鎌倉仏教**

- 法然の弟子の親鸞は、悪人正機説（悪人正因説）を唱える
  - のちに浄土真宗の開祖と仰がれる
- 一遍は念仏の札をくばって歩き、踊念仏によって教えをひろめていった（時宗）
- 旧仏教は法然らの教えをばげしく非難し、幕府や朝廷も専修念仏を弾圧

▶ Link 補足スライドへ

補足スライド  
本文を補足する資料

【悪人正機説（悪人正因説）—『歎異抄』】



すべての人間は平等に悪人であり、その自覚が救済につながると説いた。

【鎌倉新仏教の諸宗派】

宗派	開祖	主要著書	中心寺院
浄土宗	法然	選択本願念仏集	知恩院(京都)
浄土真宗	親鸞	教行信証	本願寺(京都)
時宗	一遍	(一遍上人語録)	清浄光寺(神奈川)
日蓮宗	日蓮	立正安国論	久遠寺(山梨)
臨済宗	栄西	興禅護国論	建仁寺(京都)
曹洞宗	道元	正法眼蔵	永平寺(福井)

関連する資料も表示されます

鎌倉仏教

- 日蓮は、南無妙法蓮華經の題目を唱えることによってのみ救われると説く
- 日蓮宗(法華宗)は幕府の迫害を受ける

鎌倉仏教

- 道元は、坐禅こそが仏法であると説き、ただひたすら坐禅に徹す(只管打坐)
- のち日本の曹洞宗の祖となる
- 以上の諸潮流のうち、後世への影響力が大きいものを鎌倉新仏教という
- 浄土宗・浄土真宗・時宗・日蓮宗・臨済宗・曹洞宗 [▶Link](#) 補足スライドへ

カラー

5章7節 鎌倉文化

\_\_\_\_\_年 \_\_\_\_\_組 \_\_\_\_\_番 名前\_\_\_\_\_

【鎌倉文化の特徴】 Q 鎌倉時代に新たな文化のいない手となつたのは？

- 鎌倉時代の文化の特徴
  - 武士が新たに文化のいない手となり、素朴で興々な気風は美術や宗教などに影響をあたえる
- 商人・僧侶、モンゴルからのがれた禅僧により大陸の新しい文化がもたらされる
- 公家の伝統文化にも波及
- 仏教が文化の中心となってさまざまな分野に影響を及ぼし、新しい教えも生まれる

【鎌倉仏教】 Q 鎌倉新仏教とよばれるのはどのような宗派なのか？

- ① 鎌倉仏教
  - 中世の仏教界の中心勢力は東大寺・興福寺・延暦寺・東寺などの旧仏教勢力
  - 仏教界のなかで仏教革新の運動がおき、穏健派と急進派の二つの潮流
- ② 穏健派による仏教革新
  - 穏健派は戒律の乱れに原因があると考え、戒律の重視へと向かう
  - 貞慶(解説)と明恵(高弁)が、法相宗と華嚴宗を革新しながら、戒律の尊重を唱える
  - 俊岳は、中国から新しい戒律(律宗)を伝えて泉涌寺をひらく
  - 真言律宗の敬尊(恵円)と忍性(良観)も新しい戒律をかかげ、非人や病人の救済につとめた
  - 〔1 栄西〕は、宋から禅宗を伝えて『興禅護国論』をあらわし、鎌倉幕府の保護を受けて建仁寺を創建
  - のち日本の臨済宗の祖と仰がれる
  - 幕府は中国から多くの禅僧をまねく
  - 蘭溪道隆は北条時頼の帰依を受けて建長寺を開き、無学祖元は時宗の保護で円覚寺を建立
  - 臨済禅や真言律宗の僧侶たちを禅律僧とよび、体制仏教の一角を占める
- ③ 急進派による新しい仏法の探究
  - 急進派は、一つの道(念仏・題目・座禅)によってのみ救われると説く
  - 〔2 法然〕は浄土宗をひらく
  - 南無阿弥陀仏の念仏を唱えること(専修念仏)だけが極楽往生の道であると説く
  - 法然の弟子の〔3 親鸞〕は、悪人正機説(悪人正因説)を唱える
  - のちに浄土真宗の開祖と仰がれる
  - 一遍は念仏の札をくぼけて歩き、鎌倉仏教によって教えをひろめていった(時宗)
  - 旧仏教は法然らの教えをはげしく非難し、幕府や朝廷も専修念仏を弾圧
  - 〔4 日蓮〕は、南無妙法蓮華經の題目を唱えることによってのみ救われると説く
  - 日蓮宗(法華宗)は幕府の迫害を受ける

鎌倉仏教

- 道元は、坐禅こそが仏法であると説き、ただひたすら坐禅に徹す(只管打坐)
- のち日本の曹洞宗の祖となる
- 以上の諸潮流のうち、後世への影響力が大きいものを鎌倉新仏教という
- 浄土宗・浄土真宗・時宗・日蓮宗・臨済宗・曹洞宗 [▶Link](#)

白黒

補足スライド  
通常の黒板に投影できる  
白黒版も用意しています

スライド対応プリント  
解答も用意しています

# 日本史 教材一覧

313 新日本史 A 新訂版 演習ノート	定価 (本体 540 円+税)
309 高校日本史 A 新訂版 演習ノート	定価 (本体 550 円+税)
312 日本史 B 新訂版 演習ノート	定価 (本体 700 円+税)
311 高校日本史 B 新訂版 演習ノート	定価 (本体 650 円+税)
新詳述日本史史料集	定価 (本体 762 円+税)
テーマ学習 史料日本史	定価 (本体 648 円+税)
五訂 必携日本史用語	定価 (本体 820 円+税)
2019 入試 ベストセレクション センター試験日本史 B 重要問題集	定価 (本体 750 円+税)

この冊子の表紙を『RICOH CP Clicker (iOS/Android™ アプリ)』で撮影することで、デジタルコンテンツのサンプルをご覧いただけます。ぜひご体験ください。



RICOH CP Clickerの  
インストール


◆検索ワード

リコー クリッカー

または



## 視聴方法

- ①アプリ「CP Clicker」をインストールしてください(初回のみ)。
- ②アプリ「CP Clicker」を起動してください。
- ③スキャンモード  にし、スマホ画面に表紙全体がはいるようにかざします。
- ④表紙が認識されると、コンテンツが表示されます。
  - ※コンテンツは画面を横長にご覧ください。
  - ※コンテンツのサンプルは無料でご覧いただけますが、通信会社との契約内容によっては、アプリのダウンロードや動画再生の際に別途通信費用がかかる場合があります。

本 社 〒102-8377 東京都千代田区五番町5 電話03-3238-7773～7 Fax.03-3238-7755

大阪支社 〒532-0003 大阪市淀川区宮原5-1-3 NLC新大阪アースビル 電話06-6397-2400 Fax.06-6397-2402

九州支社 〒812-0011 福岡市博多区博多駅前3-2-1 日本生命博多駅前ビル 電話092-473-1841 Fax.092-471-7529

実教出版株式会社 <http://www.jikkyo.co.jp/>